

Оценочные материалы по географии 5-9 класс

5 класс

История географических открытий

1. Марко Поло отправился в путешествие, чтобы

- а) добраться до Индии
- б) проложить новые торговые пути в Китай
- в) выучить арабский язык
- г) открыть материк Африка

2. Впервые морской путь из Европы в Индию проложил

- а) Васко да Гама
- б) Афанасий Никитин
- в) Христофор Колумб
- г) Фернан Магеллан

3. Какие океаны соединяет Магелланов пролив?

- а) Тихий и Северный Ледовитый
- б) Тихий и Атлантический
- в) Атлантический и Индийский
- г) Атлантический и Северный Ледовитый

4. Пролив между Евразией и Северной Америкой назван в честь

- а) Семёна Дежнёва
- б) Афанасия Никитина
- в) Алексея Чирикова
- г) Витуса Беринга

5. Какие моря пересёк во время своего путешествия Афанасий Никитин? Ответ запишите в виде последовательности букв в алфавитном порядке.

- а) Чёрное
- б) Северное
- в) Каспийское
- г) Карское
- д) Белое
- е) Аравийское

6. Установите соответствие между именем путешественника и названием материка, в пределах или в районе которого проходило исследование.

ИМЯ ПУТЕШЕСТВЕННИКА

МАТЕРИК

1.Х.Колумб

а) Австралия

2.Д.Кук

б) Антарктида

3.А.Никитин

в) Америки

4.Ф. Беллинсгаузен и М.Лазарев

г) Евразия

7. Установите соответствие между названием географического объекта и названием материка, в пределах или в районе которого он расположен.

НАЗВАНИЕ

б) Антарктида

ГЕОГРАФИЧЕСКОГО

в) Северная Америка

ОБЪЕКТА

г) Южная Америка

1) мыс Доброй Надежды

д) Евразия

2) полуостров Камчатка

е) Австралия

3) море Беллинсгаузена

4) полуостров Аляска

НАЗВАНИЕ МАТЕРИКА

а) Африка

Итоговые задания по теме «Земля и ее изображение»

- Земля имеет форму**
 - окружности
 - эллипсоида
 - шара
- Длина экватора составляет**
 - 39690 км.
 - 40075 км.
 - 40000 км.
- Соотнесите понятие и его определение**

РАДИУС ЗЕМЛИ	ОПРЕДЕЛЕНИЕ
1) экваториальный радиус	а) расстояние от центра планеты до экватора
2) полярный радиус	б) расстояние от центра планеты до полюса
- Линия, делящая земной шар на северное и южное полушария, называется**
 - экватор
 - орбита
 - ось.
- Время, за которое Земля совершает полный оборот вокруг Солнца, называется**
 - месяц
 - неделя
 - год
- Направление между югом и юго-востоком называется**
 - юг
 - юго-восток-восток
 - северо-восток
 - юго-юго-восток
- Какое из утверждений характеризует географическую карту**
 - дает представление о форме земли
 - учитывает кривизну поверхности Земли
 - является плоским изображением земной поверхности
- Выберите полушария, образованные линией экватора. Ответ запишите в виде последовательности букв в алфавитном порядке.**
 - северное
 - восточное
 - южное
 - западное.
- Установите соответствие между цветом на физической карте и изображением земной поверхности**

ЦВЕТ	ИЗОБРАЖЕНИЕ ЗЕМНОЙ ПОВЕРХНОСТИ
1) оттенки синего цвета	а) участки с разными высотами
2) оттенки желтого цвета	б) участки с разными глубинами

10. Установите соответствие между видами сторон горизонта и их названиями.

ВИД СТОРОН ГОРИЗОНТА	СТОРОНЫ ГОРИЗОНТА
1) основные стороны горизонта	А) север
2) промежуточные стороны горизонта	Б) северо-восток
	В) северо-запад
	Г) юг
	Д) юго-запад

Итоговая контрольная работа по географии 5 класс

- Кто из ученых древности впервые использовал слово «география»?**
 - Пифагор;
 - Аристотель;
 - Пифей;
 - Эратосфен.
- Вид изображения, позволяющий подробно изучить небольшой по площади участок земной поверхности:**
 - глобус;
 - географическая карта;
 - план;
 - аэрофотоснимок.
- Какого из указанных направлений по сторонам горизонта не существует?**
 - Ю
 - ЗВ
 - СЗ
 - ЮВ.
- Следствием осевого вращения Земли является**
 - смена времён года
 - смена дня и ночи
 - смена погоды
 - смена времени

5. **Первое путешествие вокруг Африки совершили:**
а) викинги; б) финикийцы; в) древние греки; г) индусы.
6. **Какие из перечисленных объектов расположены на территории Евразии?**
а) Китай, Амазонка, Эйр-Норт;
б) Амур, Байкал, Рейн;
в) Аппалачи, Волга, Россия;
г) Эйр-Норт, Байкал, Виктория.
7. **Река, ручей, озеро, море входят в состав:**
а) атмосферы; в) биосферы;
б) гидросферы; г) литосферы.
8. **Нижняя граница географической оболочки проходит:**
а) в атмосфере; б) в гидросфере; в) в литосфере; г) в мантии.
9. **Сколько стран расположено на территории Антарктиды?**
а) 1 б) 6 в) 12 г) ни одной
10. **Расставьте материки Земли в порядке возрастания из площади:**
а) Антарктида;
б) Африка;
в) Евразия;
г) Австралия;
11. **Установите соответствие между названием материка и характерной его особенностью:**
1) Евразия; а) Самый жаркий;
2) Африка; б) Самый холодный;
3) Антарктида; в) Самый большой;
4) Австралия; г) Самый маленький.
12. **Из предложенного списка выберите 3 объекта природы.**
а) компьютер; б) хлеб;
в) песок; г) море;
д) ручка; е) собака.
13. **Кто совершил первое кругосветное путешествие?**
14. **Какой метод географических исследований применен при составлении этого текста?**
Тропические леса занимают значительную часть лесной площади мира и являются главным источником древесины ценных пород. Это огромная кладовая пищевых, технических, лекарственных и других полезных растений, широко вошедших в культуру и быт народов многих стран, а также послуживших источником генофонда диких сородичей для селекции и выведения культурных сортов. Чай и кофе, бананы и цитрусовые, гевея и тунг, как и многие сотни других ныне культивируемых полезных растений, являются выходцами из тропических лесов.

Контрольное тестирование по географии по теме: "Путешествие по планете Земля"

5 класс

1. Укажите каким количеством океанов омываются следующие материки:

а) Антарктида

б) Евразия

в) Южная Америка

2. Какие из перечисленных объектов расположены на территории Евразии?

а) Китай, Амазонка, Джомолунгма

б) Амур, Байкал, Рейн

в) Аппалачи, Волга, Россия

3. Какие из перечисленных объектов расположены на территории Северной Америки?

а) Китай, Амазонка, Джомолунгма

б) Амур, Байкал, Рейн

в) Аппалачи, Кордильеры, Миссисипи

4. Расставьте материки Земли в порядке возрастания их площади

а) Антарктида

б) Африка

- в) Евразия
- г) Северная Америка
- д) Австралия
- е) Южная Америка

5. Установите соответствие между названием материка и расположенной на его территории горной системой.

1) Евразия	А) Тибет
2) Южная Америка	Б) Кордильеры
3) Северная Америка	В) Анды

6. Установите соответствие между названием материка и характерной его особенностью.

1) Евразия	А) самый жаркий
2) Южная Америка	Б) самый большой
3) Африка	В) самый влажный

7. Установите соответствие между материком и обитающим на его территории животным.

1) Австралия	А) пингвин
2) Южная Америка	Б) коала
3) Антарктида	В) анаконда

8. Дополните утверждение.

Самым глубоким озером в мире является 1) _____ . Оно расположено на материке 2) _____ , в пределах государства 3) _____ .

9. Узнай материк по описанию:

Это самый крупный материк. Он состоит из двух частей света и омывается водами четырех океанов.

6 класс

Итоговый тест по курсу география (6 класс)

I ВАРИАНТ

1. Моделью Земли является:

- а) Глобус
- б) Карта
- в) План
- г) Атлас

2. Географическая широта – это расстояние от:

- а) Экватора
- б) Северного полюса
- в) Начального меридиана
- г) Москвы

3. День 21 марта в северном полушарии называют днём:

- а) Летнего солнцестояния
- б) Весеннего равноденствия
- в) Осеннего равноденствия
- г) Зимнего солнцестояния

4. Наиболее подробно территория изображена на карте масштаба:

- а) 1:2 500
- б) 1:25 000
- в) 1:250 000
- г) 1:25 000 000

5. Горные породы образованные в результате накопления веществ выпавших в осадок на дне водоёмов называются:

- а) Метаморфическими
- б) Осадочными
- в) Магматическими
- г) Органическими

6. Горы на карте обозначаются цветом:

- а) Голубым
- б) Жёлтым
- в) Зелёным
- г) Коричневым

7. Смена времён года вызвана:

- а) Вращением Земли вокруг своей оси
- б) Вращением Земли вокруг солнца
- в) Наклоном земной оси
- г) Орбитой годового вращения Земли

8. Если в течении суток самая высокая температура +24°C, а самая низкая +10°C, то суточная амплитуда равна:

- а) 34°C
- б) 24°C
- в) 14°C
- г) 4°C

9. На метеорологических станциях давление определяют с помощью:

- а) Гигрометра
- б) Термометра

в) Флюгера

г) Барометра

10. Река **НЕ** может брать начало из:

- а) Болота
- б) Озера

- в) Моря
- г) Родника

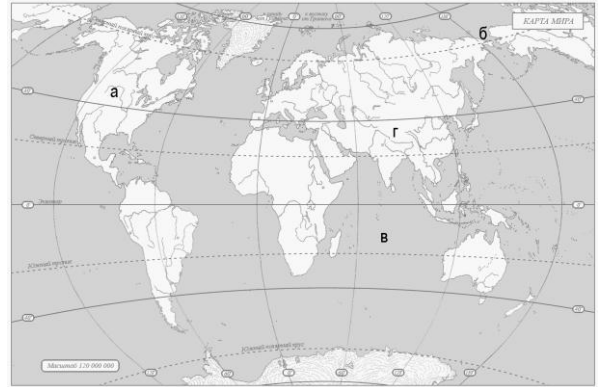
11. Главная причина широтной зональности:

- а) Изменение тепла и влажности с высотой
- б) Изменение тепла и влаги от экватора к полюсам

- в) Изменение тепла и влаги по сезонам года
- г) Изменение тепла и влаги из-за рельефа

12. Какой буквой на карте отмечены:

- 1. Америка
- 2. Берингов пролив
- 3. Горы Гималаи
- 4. Индийский океан



13. От чего зависит сила ветра?

- а) От близости океанов.
- б) От разницы давления.
- в) От скорости вращения Земли.
- г) От времени года.

14. Причиной неравномерности распределения температуры по земной поверхности является:

- а) удаленность от Солнца
- б) вращение вокруг Солнца

- в) шарообразность Земли
- г) внутренним строением Земли

15. какой животный и растительный мир характерен для саванн?

- а) брусника, песцы, морошка, северные олени
- б) ковыль, пырей, лисицы, сурки
- в) баобаб, антилопы, трава, леопарды
- г) белые медведи, мхи, лишайники, моржи

Итоговый тест по курсу география (6 класс)

II ВАРИАНТ

1. Угол наклона земной оси составляет:

- а) 0°
- б) 33,5°

- в) 66,5°
- г) 90°

2. Географическая долгота – это расстояние от:

- а) Гринвича
- б) Нулевого меридиана

- в) Начального меридиана
- г) Верны все варианты ответов

3. День 22 июня в северном полушарии называют днём:

- а) Летнего солнцестояния
- б) Весеннего равноденствия

- в) Осеннего равноденствия
- г) Зимнего солнцестояния

4. На плане местности указан масштаб «в одном сантиметре – 6 м.». Ему соответствует численный масштаб:

- а) 1:6
- б) 1:60

- в) 1:600
- г) 1:6000

5. Горные породы образованные в результате остывания мантийного вещества называются:

- а) Метаморфическими
- б) Осадочными

- в) Магматическими
- г) Органическими

6. Равнины на карте обозначаются цветом:

- а) Голубым
- б) Жёлтым

- в) Зелёным
- г) Коричневым

7. Смена дня и ночи вызвана:

- а) Вращением Земли вокруг своей оси
- б) Вращением Земли вокруг солнца

- в) Наклоном земной оси
- г) Орбитой годового вращения Земли

8. Если в течении суток замеры температуры составили утром+9°C, днём+24°C, вечером+12°C, то средняя температура суток равна:

- а) 20°C
- б) 15°C

- в) 10°C
- г) 5°C

9. Наименьшее атмосферное давление наблюдается на:

- а) Берегу моря
- б) Низменности

- в) Холме
- г) Вершине горы

10. Какой процесс **НЕ** является частью круговорота воды:

- а) Испарение
- б) Выпадение осадков

- в) Шторм на море
- г) Таяние снега и льда

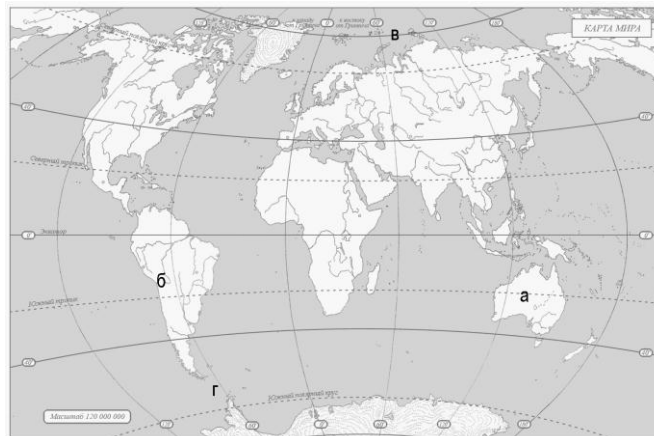
11. Закономерная смена природных компонентов и природных комплексов с подъёмом – это:

- а) Широтная зональность
- б) Высотная поясность

- в) Природная зона
- г) Природный комплекс

12. Какой буквой на карте отмечены:

- 1.Северный Ледовитый океан
- 2.Пролив Дрейка
- 3.Горы Анды
- 4.Австралия



13. Давление зависит от:

- а) Силы ветра
- б) направления ветра
- в) разницы температуры воздуха
- г) влажности

14. высота над уровнем моря называется:

- а) горизонтальная
- б) относительная
- в) вертикальная

- г) абсолютная

15. какой растительный и животный мир характерен для зоны тундр?

- а) брусника, песцы, морошка, северные олени
- б) ковыль, пырей, лисицы, сурки
- в) баобаб, шимпанзе, лианы, леопарды
- г) белые медведи, мхи, лишайники, моржи

7 класс

Часть А включает 18 заданий базового уровня. На вопрос предлагаются четыре варианта ответов, из которых верным может быть только один.

Часть В — более сложный уровень. 4 задания, представленные в этой группе, требуют от учащихся более глубоких знаний. Ответом к заданиям этой части является последовательность букв или цифр.

Часть С — уровень повышенной сложности. При выполнении этих заданий требуется применить практические навыки или дать развернутый ответ.

На выполнение административной контрольной работы по географии

отводится 90 минут.

Разрешается использование атласов, калькуляторов, линейки.

Критерии оценивания

За правильный ответ на задания: части А — 1 балл; части В и С—2 балла.

Максимальный первичный балл- 30 баллов.

Если ученик правильно отвечает на 50—70% вопросов, то получает оценку «3», 70—90% правильных ответов — «4», 90—100% правильных ответов — «5».

Шкала пересчета первичного балла за выполнение итоговой контрольной работы в отметку по пятибалльной шкале

Оценка по пятибалльной шкале	«2»	«3»	«4»	«5»
Общий балл	0- 14	15-20	21-26	27-30

Вариант 1 ЧАСТЬ А

Часть А содержит 18 заданий с выбором ответа. К каждому заданию даётся четыре варианта ответа, только один из которых верный. При выполнении заданий этой части в бланке ответов № 1 под номером выполняемого вами задания (А1–А18) поставьте знак «х» в клеточке, номер которой соответствует номеру выбранного вами ответа.

А-1.Какой материк пересекается экватором в северной части?

- 1)Северная Америка
- 2) Южная Америка
- 3)Австралия
- 4)Евразия

А-2.Какой из перечисленных путешественников исследовал внутренние районы Африки?

- 1) Д. Ливингстон
- 2) Дж.Кук
- 3) А. Веспуччи
- 4) А. Макензи

А-3. Какой материк Земли самый сухой?

- 1) Евразия
- 2) Австралия
- 3) Африка
- 4) Южная Америка

А-4.Относительно устойчивые и выровненные участки земной коры, лежащие в основании современных материков, - это:

- 1) материковые отмели
- 2)платформы
- 3)сейсмические пояса
- 4)острова

А-5. Какая из перечисленных территорий расположена в пределах сейсмического пояса?

- 1) остров Сахалин
- 2) острова Новая Земля
- 3) полуостров Таймыр
- 4) полуостров Ямал

А-6.Какая из перечисленных горных систем самая протяженная?

- 1) Кордильеры
- 2) Урал
- 3) Альпы
- 4) Аппалачи

А-7. Какой буквой на карте обозначен вулкан Килиманджаро?



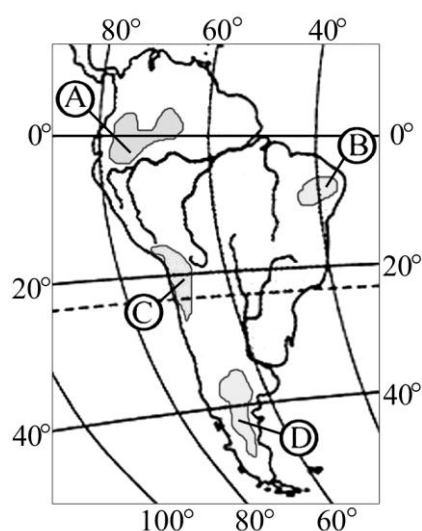
- 1) А 2) Б 3) В 4)Г

А-8.Для какого типа климата умеренного климатического пояса характерны самые низкие зимние температуры?

- 1 морского
-)
- 2 умеренно- континентального
-)
- 3 резко- континентального
-)
- 4 муссонного
-)

А-9. На какой из территорий, обозначенных буквами на карте Южной Америки, среднегодовое количество атмосферных осадков наибольшее?

- 1) А 2) Б 3) В 4) Г



А-10. Какое из перечисленных морских течений действует в Тихом океане?

- 1) Гольфстрим 2) Бразильское 3) Гвинейское 4) Куроисио.

А-11. В умеренном поясе к югу от лесной зоны расположена зона:

- 1) тайги
- 2) лесостепей и степей
- 3) лесотундр и тундр
- 4) высотной поясности

А-12. Соболь - животное, обитающее в природной зоне:

- 1) степей
- 2) тайги
- 3) пустынь
- 4) тундры

А-13. Укажите ошибку в сочетании «материк - животное».

- 1) Африка — гепард
- 2) Австралия — вомбат
- 3) Южная Америка - пума
- 4) Евразия — скунс

А-14. Укажите правильный вариант ответа. В Африке —вади, а в Австралии:

- 1) пуны
- 2) крики
- 3) самум
- 4) коала

А-15. Какие координаты имеет самая восточная точка Африки?

- 1) 16° ю.ш.; 3° в.д.
- 2) 10° с.ш.; 51° в.д.
- 3) 51° с.ш.; 11° в.д.
- 4) 16° с.ш.; 3° з.д.

А-16. По карте плотности населения определите, какая из названных территорий заселена больше?

- 1) Европа;
- 2) Южная Америка;
- 3) Австралия;
- 4) север Африки.

А-17. Родиной какого культурного растения является Африка?

- 1) кофе
- 2) каучуконосов
- 3) какао
- 4) чая

А-18. Одним из основных современных видов хозяйственной деятельности человека в тундре является:

- 1) заготовка леса
- 2) добыча полезных ископаемых
- 3) разведение скота
- 4) выращивание зерна

ЧАСТЬ В

Часть В содержит 4 задания. Задания В-1, В-2 содержат по три правильных ответа. Ответом к заданиям этой части (В-3, В-14) является слово, последовательность букв или цифр. Впишите ответы сначала в текст работы, а затем перенесите их в бланк ответов № 1 справа от номера соответствующего задания, начиная с первой клеточки, без пробелов, запятых и других дополнительных символов. Каждую цифру или букву пишите в отдельной клеточке в соответствии с приведёнными в бланке образцами. Единицы измерения писать не нужно.

В-1. Определите, о какой природной зоне говорится:

«Характерны желтоземные и красноземные почвы. Субтропические вечнозеленые леса и кустарники. Характерные представители животного мира: гепарды, зебры, носороги, слоны».

В-2. Установите соответствие между строением земной коры и рельефом.

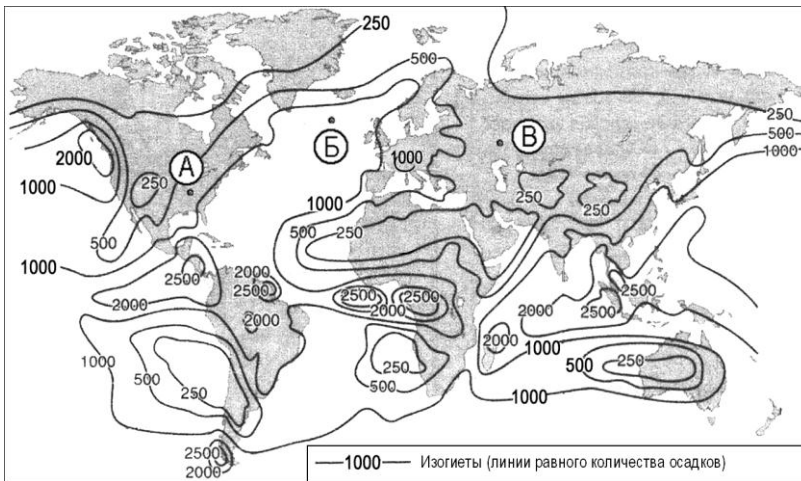
ГОРЫ

ВОЗРАСТ СКЛАДЧАТОСТИ

- 1) Гималаи
- 2) Урал
- 3) Верхоянский хребет

- А. Мезозойский
- Б. Кайнозойский
- В. Герцинский

В-3. С помощью карты сравните среднегодовое количество осадков в точках, обозначенных на карте буквами А, Б, В. Расположите эти точки в порядке увеличения количества осадков, выпадающих в них.



Запишите в таблицу получившуюся последовательность букв.

А) А

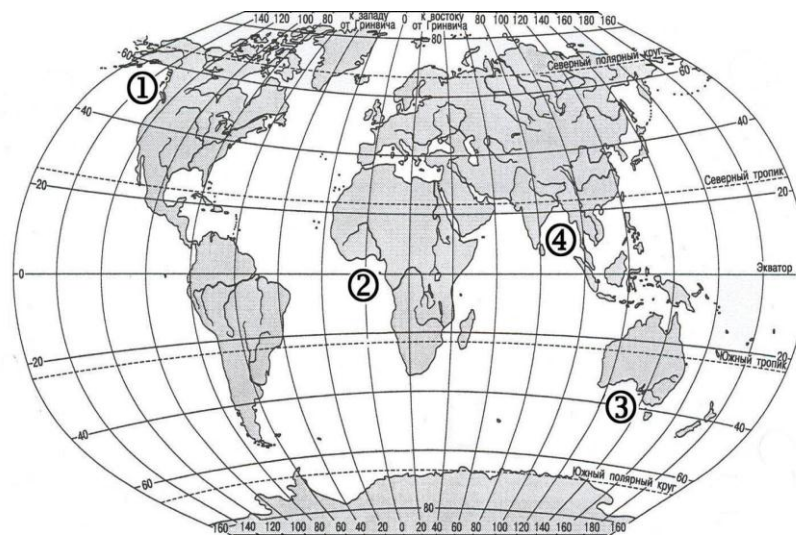
Б) Б

В) В

Ответ:

--	--	--

В-4. Установите соответствие между заливом и его расположением на карте, обозначенным цифрой.



ЗАЛИВ

РАСПОЛОЖЕНИЕ НА КАРТЕ

А) Гвинейский

1) 1

Б) Бенгальский 2) 2

В) Аляска 3) 3

4) 4

Запишите в таблицу цифры, соответствующие выбранным ответам.

Ответ:

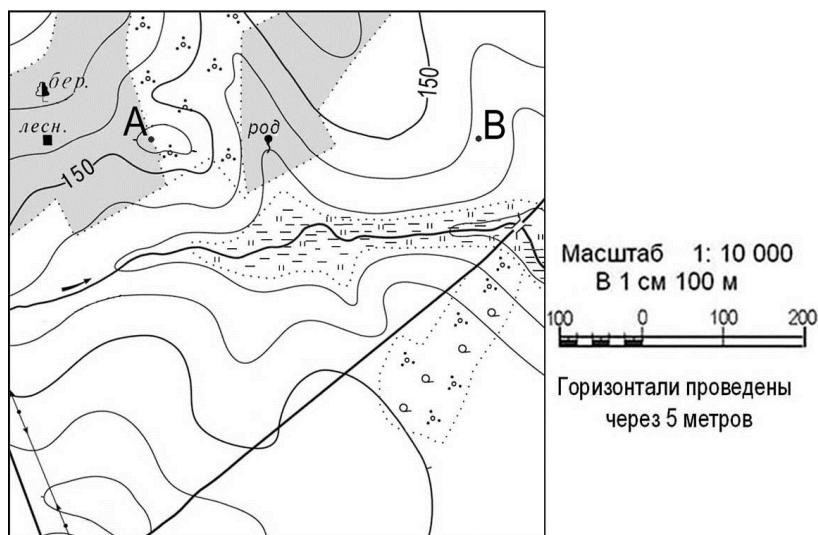
А	Б	В

ЧАСТЬ С

Задания С требуют развёрнутого ответа. Запишите сначала номер задания, а затем полный ответ

С-1. Определите по карте расстояние на местности по прямой от родника до дома лесника. Полученный результат округлите до десятков метров. Ответ запишите цифрами.

Ответ: _____ м.



С-2. Определите страну по ее краткому описанию.

Это – одна из крупных по площади стран мира, имеет выход к трем океанам. На её территории находится одна из крайних точек материка, на котором она расположена. По суше граничит лишь с одной страной. Большая часть ее населения расположена вдоль южной границы. Страна богата разнообразными полезными ископаемыми, а также лесными, земельными, водными ресурсами.

Вариант 2
ЧАСТЬ А

Часть А содержит 18 заданий с выбором ответа. К каждому заданию даётся четыре варианта ответа, только один из которых верный. При выполнении заданий этой части в бланке ответов № 1 под номером выполняемого вами задания (А1–А18) поставьте знак «х» в клеточке, номер которой соответствует номеру выбранного вами ответа.

А-1. Какой материк пересекается всеми меридианами?

- 1) Евразия
- 2) Африка
- 3) Северная Америка
- 4) Антарктида

А-2. Какое из следующих утверждений является верным?

- 1) Н. Пржевальский проводил свои географические исследования в Азии
- 2) Первым Южного полюса достиг Ф. Нансен
- 3) Америка получила название от своих коренных жителей – индейцев
- 4) Первым Северного полюса достиг Р. Амундсен

А-3. Какой материк Земли самый жаркий?

- 1) Африка
- 2) Австралия
- 3) Евразия
- 4) Северная Америка

А-4. Пограничные области между литосферными плитами, в которых происходят извержения вулканов и землетрясения, - это:

- 1) платформы
- 2) сейсмические пояса
- 3) горы
- 4) океанические равнины

А-5. Какая из перечисленных территорий расположена в пределах сейсмического пояса?

- 1) Японские острова
- 2) Остров Мадагаскар
- 3) полуостров Индостан
- 4) остров Гренландия

А-6. Какая из перечисленных горных систем самая высокая?

- 1) Гималаи 2) Анды 3) Атлас 4) Кордильеры

А-7. Какой буквой на карте обозначена гора Аконкагуа?



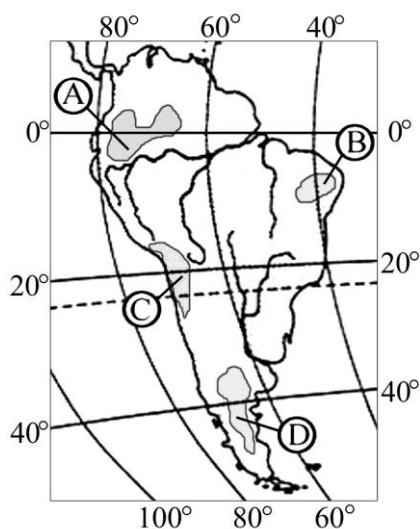
- 1) А 2) Б 3) В 4)Г

А-8.Признаком морского типа климата является:

- 1) лето сухое и жаркое
- 2) зима влажная и теплая
- 3) большая амплитуда колебания температур
- 4) низкие зимние температуры

А-9.На какой из территорий, обозначенных буквами на карте Южной Америки, среднегодовое количество атмосферных осадков наименьшее?

- 1) А 2)В 3)С 4)D



А-10. Самое мощное теплое течение в Мировом океане:

- 1) Гольфстрим 2) Бразильское 3) Гвинейское 4) Куроисио

А-11. Где тайга занимает наибольшую площадь?

- 1) в Австралии
- 2) в Северной Америке
- 3) в Евразии
- 4) в Южной Америке

А-12. Для какой из перечисленных природных зон характерно наибольшее количество грызунов?

- 1) тайги
- 2) тундры и лесотундры
- 3) степи
- 4) полупустыни и пустыни

А-13. Укажите ошибочное сочетание «материк — река».

- 1) Африка — Замбези
- 2) Австралия — Муррей
- 3) Южная Америка — Ориноко
- 4) Северная Америка — Парана

А-14. Скрэб(заросли колючих кустарников) характерны для материка:

- 1) Австралии
- 2) Африки
- 3) Южной Америки
- 4) Антарктиды

А-15. Какие координаты имеет самая западная точка Африки?

- 1) 14° с.ш.; 15° з.д.;
- 2) 14° ю.ш.; 17° з.д.;
- 3) 17° с.ш.; 26° з.д.;
- 4) 11° с.ш.; 3° в.д.

А-16. По карте плотности населения определите, какая из названных территорий заселена меньше?

- 1) Европа;
- 2) Южная Америка;
- 3) Австралия;
- 4) север Африки.

А-17. Родиной каких культур является Южная Америка?

- 1) какао и кофе
- 2) картофеля и бананов
- 3) томатов и картофеля
- 4) пшеницы и риса

А-18. Одним из основных современных видов хозяйственной деятельности человека в тайге является:

- 1) заготовка леса
- 2) добыча полезных ископаемых
- 3) разведение скота
- 4) выращивание зерна

ЧАСТЬ В

Часть В содержит 4 задания. Задания В-1, В-2 содержат по три правильных ответа. Ответом к заданиям этой части (В-3, В-14) является слово, последовательность букв или цифр. Впишите ответы сначала в текст работы, а затем перенесите их в бланк ответов № 1 справа от номера соответствующего задания, начиная с первой клеточки, без пробелов, запятых и других дополнительных символов. Каждую цифру или букву пишите в отдельной клеточке в соответствии с приведёнными в бланке образцами. Единицы измерения писать не нужно.

В-1. Определите, о какой природной зоне говорится:

«...низкие температуры весь год, осадки — редки, преимущественно в виде снега, растительность карликовая, встречаются лемминги, песцы...».

В-2. Установите соответствие между строением земной коры и рельефом

ПЛАТФОРМА

РАВНИНА

1) Сибирская

А. Западно-Сибирская

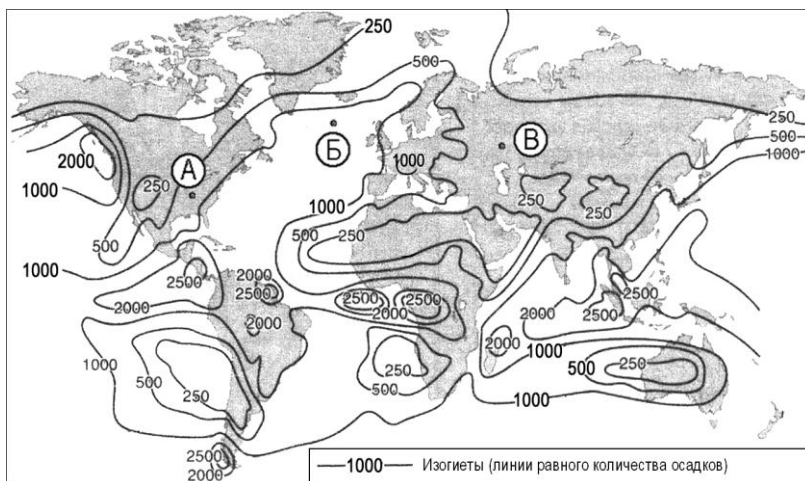
2) Индийская Б. Великая Китайская

3) Китайско-Корейская

В. Декан (плато)

Г. Среднесибирское (Плато)

В-3. С помощью карты сравните среднегодовое количество осадков в точках, обозначенных на карте буквами А, Б, В. Расположите эти точки в порядке уменьшения количества осадков, выпадающих в них.



Запишите в таблицу получившуюся последовательность букв.

А) А

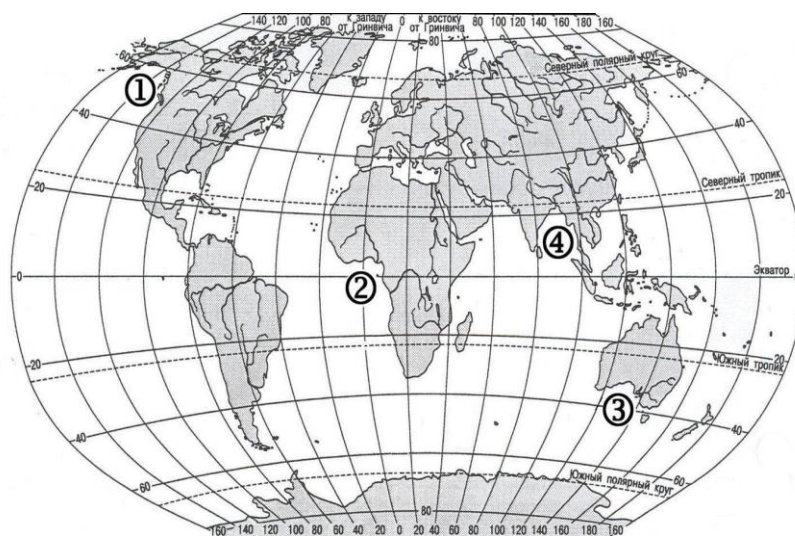
Б) Б

В) В

Ответ:

--	--	--

В-4. Установите соответствие между заливом и его расположением на карте, обозначенным цифрой.



ЗАЛИВ

РАСПОЛОЖЕНИЕ НА КАРТЕ

- | | |
|--------------------------|------|
| А) Гвинейский | 1) 1 |
| Б) Бенгальский | 2) 2 |
| В) Большой Австралийский | 3) 3 |
| | 4) 4 |

Запишите в таблицу цифры, соответствующие выбранным ответам.

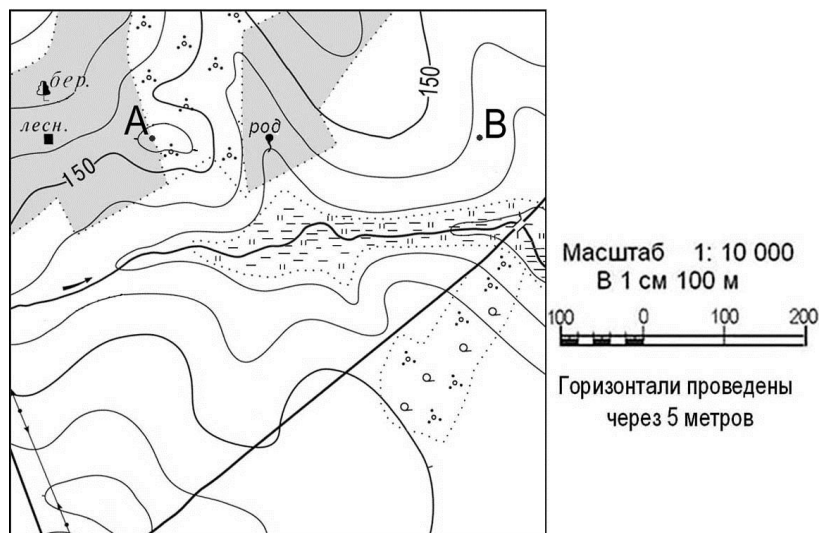
Ответ:	А	Б	В

ЧАСТЬ С

Задания С требуют развёрнутого ответа. Запишите сначала номер задания, а затем полный ответ

С-1. Определите по карте расстояние на местности по прямой от родника до деревянного моста через реку. Полученный результат округлите до десятков метров. Ответ запишите цифрами.

Ответ: _____ м.



С-2. Определите страну по ее краткому описанию.

Страна расположена на севере материка, на её территории находится его крайняя точка. Страна имеет выход к одному из крупнейших морей Атлантического океана. Здесь преобладают пустынные ландшафты, однако на севере растут оливковые деревья, апельсиновые рощи, вечнозеленые средиземноморские леса. На территории страны можно увидеть развалины древнего города Карфагена. Название столицы совпадает с названием государства.

Ответы итоговой контрольной работы по географии для 7 класса (тесты)

Вариант 1

ЧАСТЬ А

Номер	А 1	А 2	А 3	А 4	А 5	А 6	А 7	А 8	А 9	А1 0	А1 1	А1 2	А1 3	А1 4	А1 5	А1 6	А1 7	А1 8
-------	-----	-----	-----	-----	-----	-----	-----	-----	-----	------	------	------	------	------	------	------	------	------

задан ия																		
	2	1	2	2	1	1	4	3	1	1	2	2	4	2	2	1	1	2

ЧАСТЬ В

Номер задания	В1	В2	В3	В4
	Саванны и редколесья	1-Б 2-В 3-А	ВАБ	А-2 Б-4 В-1

ЧАСТЬ С

С1-

С2- Канада

Вариант 2

Вариант 1

ЧАСТЬ А

Номер задания	А1	А2	А3	А4	А5	А6	А7	А8	А9	А10	А11	А12	А13	А14	А15	А16	А17	А18
	4	1	1	2	1	1	3	2	3	1	3	3	4	1	1	3	3	1

ЧАСТЬ В

Номер задания	В1	В2	В3	В4
	тундра	1-Г 2-В 3-Б	БАВ	А-2 Б-4 В-3

ЧАСТЬ С

С1-

С2-Тунис

Вариант 1

ЧАСТЬ А

Номер задания	А1	А2	А3	А4	А5	А6	А7	А8	А9	А10	А11	А12	А13	А14	А15	А16	А17	А18

ЧАСТЬ В

Номер задания	В1	В2	В3	В4

ЧАСТЬ С

С1- _____

С2- _____

Итоговая контрольная работа по географии
за 20__ – 20__ учебный год
учени _____ 7 «__» класса

Вариант 2

ЧАСТЬ А

Номер задания	А1	А2	А3	А4	А5	А6	А7	А8	А9	А10	А11	А12	А13	А14	А15	А16	А17	А18

ЧАСТЬ В

Номер задания	В1	В2	В3	В4

ЧАСТЬ С

С1- _____

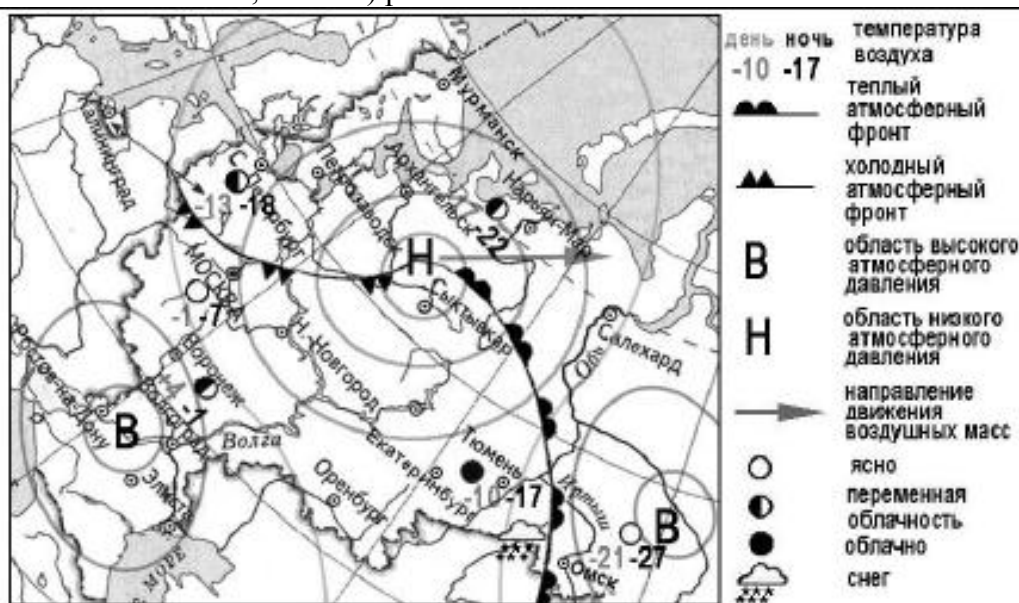
С2- _____

8 класс

Итоговый тест по географии 8 класс

- 1. Укажите крайнюю северную материковую точку России**
1) мыс Челюскин; 2) Мыс Диксон; 3) Мыс Флигели; 4) Мыс Лопатка
- 2. С какой страной Россия не имеет сухопутных границ:**

- 1) Украина; 2) Белоруссия; 3) Армения; 4) Азербайджан.
- 3. Выявите, какое время показывают часы в Москве (II часовой пояс), если известно, что в г. Норильске (VI часовой пояс) в данный момент 20 ч.**
- 1) 16 ч.; 2) 24 ч.; 3) 2 ч.; 4) 17 ч.
- 4. Обширная область земной коры, обладающая устойчивостью, это –**
- 1) Платформа, 2) Горст, 3) Щит, 4) Морена
- 5. Западная Сибирь, Волго-Уральский район, Европейский Север, шельф Сахалина - это крупные ресурсные районы. Определите, запасы какого полезного ископаемого здесь сосредоточены**
- 1) угля; 2) нефти и газа; 3) железных руд; 4) руд цветных металлов
- 6. Определите, какой из типов климата характеризуется следующим набором свойств: годовая амплитуда температур 50-60 °С, небольшая (0,2-0,3м) высота снежного покрова, господство антициклональных типов погоды**
- 1) морской; 3) умеренно-континентальный;
2) континентальный; 4) резко континентальный.



- 7. Какой из перечисленных городов, показанных на карте, находится в зоне действия антициклона?**
- 1) Архангельск; 2) Сыктывкар; 3) Ростов-на-Дону; 4) Нижний Новгород
- 8. Карта погоды составлена на 17 января. В каком из перечисленных городов, показанных на карте, на следующий день вероятно существенное похолодание?**
- 1) Москва 2) Омск 3) Тюмень 4) Элиста
- 9. Определите, какие из перечисленных рек относятся к бассейну Северного Ледовитого океана**
- 1) Дон, Кубань; 2) Волга, Терек, Урал; 3) Амур; 4) Лена, Енисей, Обь
- 10. Заполненное водой крупное естественное понижение земной поверхности – это:**
- 1) болото 2) река 3) водохранилище 4) озеро
- 11. Амур, Бурея, Зея относятся к рекам с:**
- 1) весенним половодьем, 3) летним половодьем,
2) паводочным режимом, 4) равномерным стоком.
- 12. Процесс разрушения почвы водой и ветром называется:**
- 1) Агротехникой 2) Мелиорацией 3) Эрозией 4) Рекультивацией
- 13. Какая из перечисленных природных зон занимает наибольшую площадь в России?**
- 1) лесотундра 2) тундра 3) тайга 4) степь
- 14. Группа студентов из Ростова-на-Дону занимается изучением экосистем**

крупных рек. Какой из перечисленных заповедников им необходимо посетить для изучения экосистем дельты одной из крупнейших рек Сибири?

- 1) Усть-Ленский 3) Печоро-Ильчский
2) Тебердинский 4) Окский

15. Для зоны тундр характерны животные (выберите двоих):

- 1) песец 2) белый медведь, 3) лемминг, 4) бурый медведь, 5) лось.

16. Воссоздайте правильную последовательность почвенных горизонтов от поверхности вглубь земли?

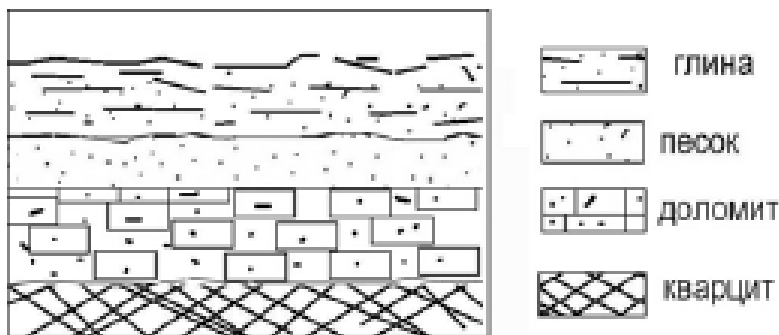
- 1) материнская порода 2) гумусовый 3) вымывания 4) вмывания

17. Какой зональный тип почв формируется под хвойными лесами в условиях избыточного увлажнения и умеренно-теплого лета?

18. Во время экскурсии учащиеся сделали схематическую зарисовку залегания горных пород на обрыве у берега реки.

Расположите показанные на рисунке слои горных пород в порядке **возрастания** их возраста (от самого молодого до самого старого).

Запишите в таблицу получившуюся последовательность букв.



- А) глина
Б) кварцит
В) песок

1	2	3

19. Перечислите все известные вам причины большого количества озер в Карелии и на Кольском полуострове.

9 класс

Население и хозяйство России

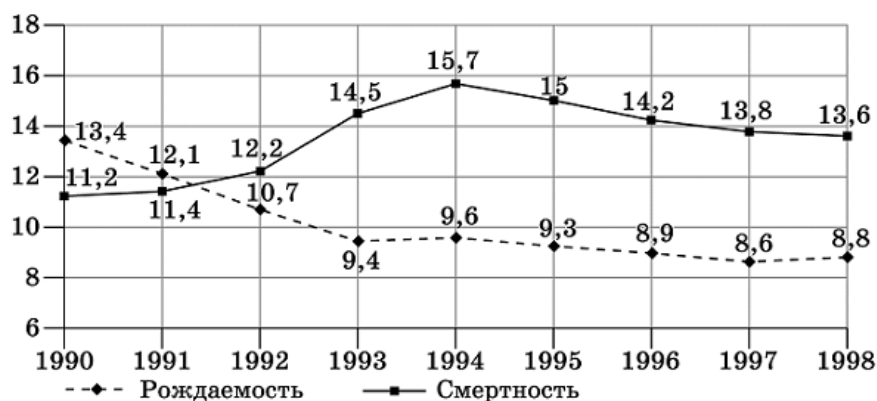
- Какая из перечисленных отраслей хозяйства относится к непроизводственной сфере?
 - лесная промышленность
 - лесное хозяйство
 - образование
 - энергетика
- Какой из перечисленных производственных процессов не относится к машиностроению?
 - производство авиамоторов
 - производство каучука и резины
 - производство оптических приборов
 - производство персональных компьютеров
- Какой из перечисленных факторов является ведущим при размещении атомных электростанций?
 - потребительский
 - сырьевой
 - транспортный
 - энергетический

4. Какая из перечисленных сельскохозяйственных культур не относится к группе зерновых?
1) кукуруза 2) подсолнечник 3) рис 4) рожь
5. В какой из перечисленных природных зон наиболее широко распространено северное оленеводство?
1) смешанные леса 2) степь и лесостепь 3) тундра и лесотундра 4) широколиственные леса
6. О каком из перечисленных межотраслевых комплексов идёт речь в тексте? «В 2015 году производственная компания "Норильский никель" отметит свой 80-летний юбилей. Из норильской руды производятся 14 элементов таблицы Менделеева: медь, никель, кобальт, золото, серебро, платина и др. На российском рынке на долю компании приходится 89 % российского производства никеля, 45 % меди, 82 % платины, 100% палладия».
1) машиностроительный 3) топливно-энергетический 2) металлургический 4) транспортный
7. Какие из перечисленных городов являются металлургическими центрами?
1) Астрахань и Старый Оскол 2) Астрахань и Псков
3) Магнитогорск и Псков 4) Магнитогорск и Старый Оскол
8. Верны ли следующие высказывания, характеризующие особенности размещения хозяйственных объектов на территории России?
А. Крупнейшие месторождения нефти и природного газа залегают в Восточной Сибири.
Б. Крупнейшие центры сельскохозяйственного машиностроения размещаются в Центральной России.
1) верно только А 2) верно только Б
3) верны оба высказывания 4) оба высказывания неверны
9. В каком из перечисленных субъектов Российской Федерации производство овощей и фруктов является одной из ведущих отраслей хозяйства?
1) Алтайский край 2) Краснодарский край 3) Республика Коми 4) Республика Хакасия
10. В каком из перечисленных высказываний содержится информация о процессах миграции населения в Калининградской области?
1) В 2013 году доля городского населения в Калининградской области составила 78%.
2) В 2013 году численность населения Калининградской области составила 954,8 тыс. человек.
3) За 10 месяцев 2013 года в Калининградскую область прибыло на 17,5% человек больше, чем уехало за её пределы.
4) Население Калининградской области многонациональное, здесь проживают представители 30 народов.
11. В России сосредоточена четверть мировых лесных ресурсов. Наша страна является крупным поставщиком круглого леса на мировой рынок: сейчас экспорт из России составляет почти половину мирового экспорта. Известно, что значительно выгоднее вывозить продукцию лесоперерабатывающей и целлюлозно-бумажной промышленности, чем круглый лес. Минпромэнерго одобрило пять инвестпроектов лесоперерабатывающих предприятий. Один из проектов —

строительство целлюлозно-бумажного комбината в Кировской области. Объясните, какие особенности природно-ресурсной базы Кировской области обусловили выбор этого региона для строительства целлюлозно-бумажного комбината. Укажите две причины.

12. В каком из перечисленных годов показатель рождаемости был наименьшим?

Общие коэффициенты рождаемости и смертности в России
(в расчете на 1000 населения)



1) 1990 2) 1992 3) 1995 4) 1997

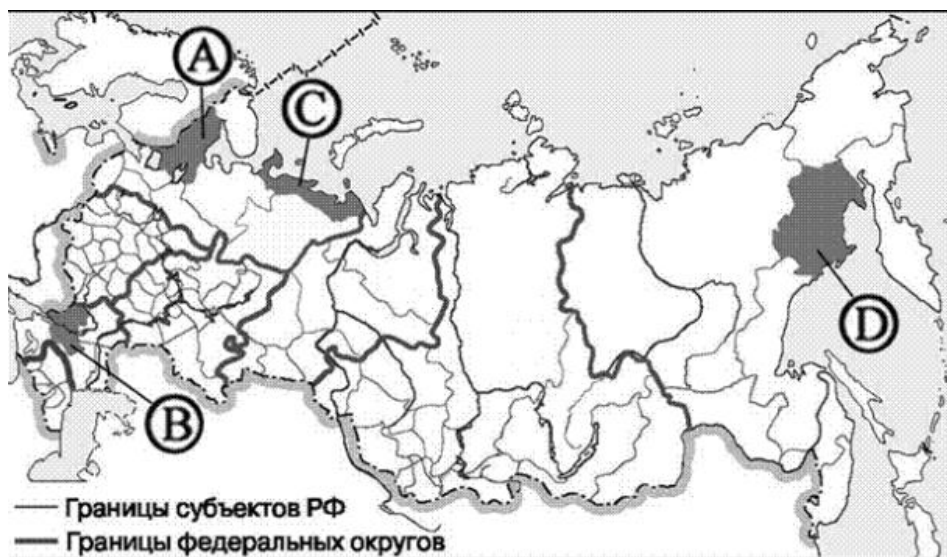
13. В каком из перечисленных субъектов РФ в 2011 г. число выбывших превышало число прибывших?

Изменение численности постоянного населения субъектов РФ в 2011 г.
(человек)

Субъект РФ	Среднегодовая численность населения	Общий прирост населения	Миграционный прирост населения
Калужская область	664 078	711	3 551
Ивановская область	1 057 074	-6 069	795
Краснодарский край	5 257 231	54 466	61 514
Республика Калмыкия	287 796	-2 213	-3 484

1) Республика Калмыкия 2) Краснодарский край
3) Ивановская область 4) Калужская область

14. В каком из регионов, обозначенных буквами на карте России, наибольшая средняя плотность населения?



1) A 2) B 3) C 4) D